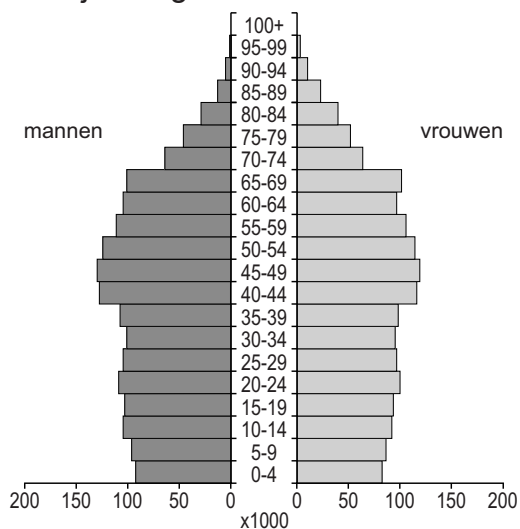


Bevolking en ruimte

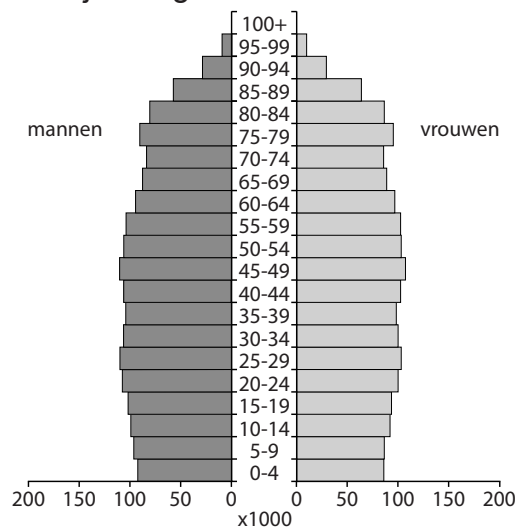
bron 30

Vier leeftijdsdiagrammen van Nederland

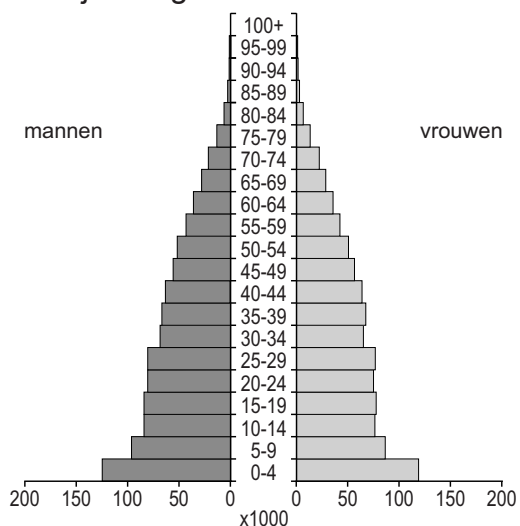
leeftijdsdiagram 1



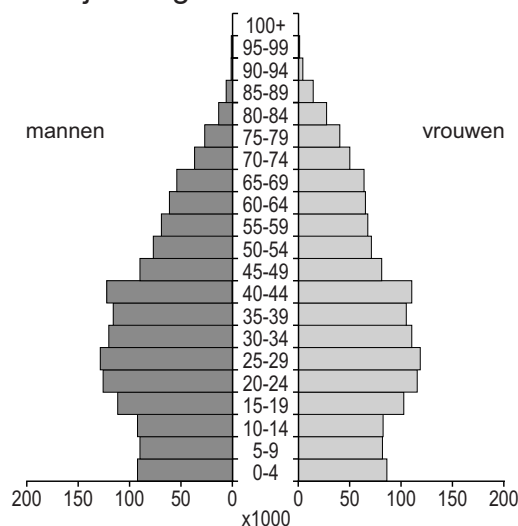
leeftijdsdiagram 2



leeftijdsdiagram 3



leeftijdsdiagram 4

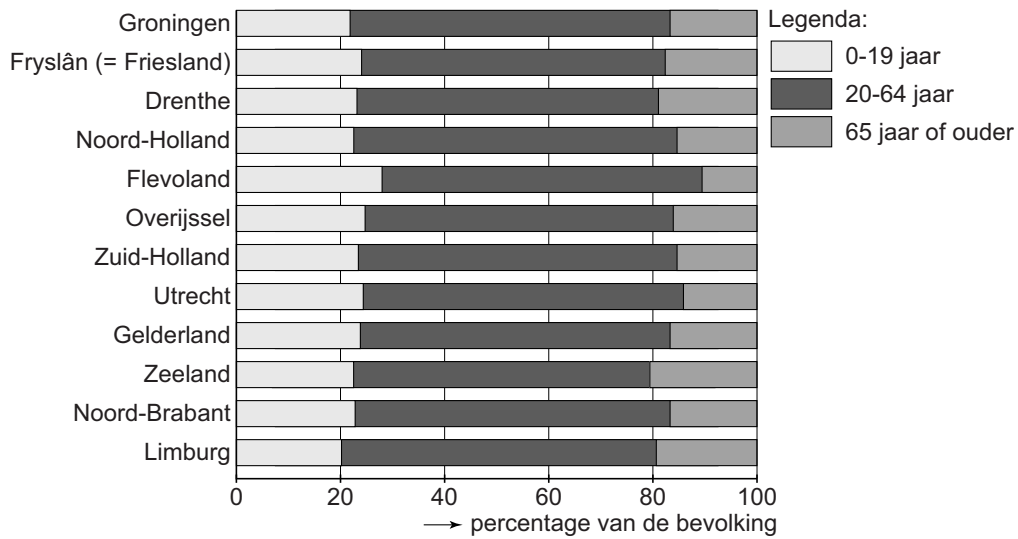


- 1p 32 Bekijk bron 30. In bron 30 staan, in willekeurige volgorde, de leeftijdsdiagrammen van Nederland van 1950, 1990, 2014 en 2050. Waar staan de cijfers 1, 2, 3 en 4 van de leeftijdsdiagrammen uit bron 30 juist bij de vier jaartallen?

	1950	1990	2014	2050
A	1	2	4	3
B	1	3	4	2
C	2	1	3	4
D	2	4	3	1
E	3	2	1	4
F	3	4	1	2

bron 31

Bevolkingsopbouw naar leeftijd per provincie, 1 januari 2012



2p 33 Bekijk bron 31.

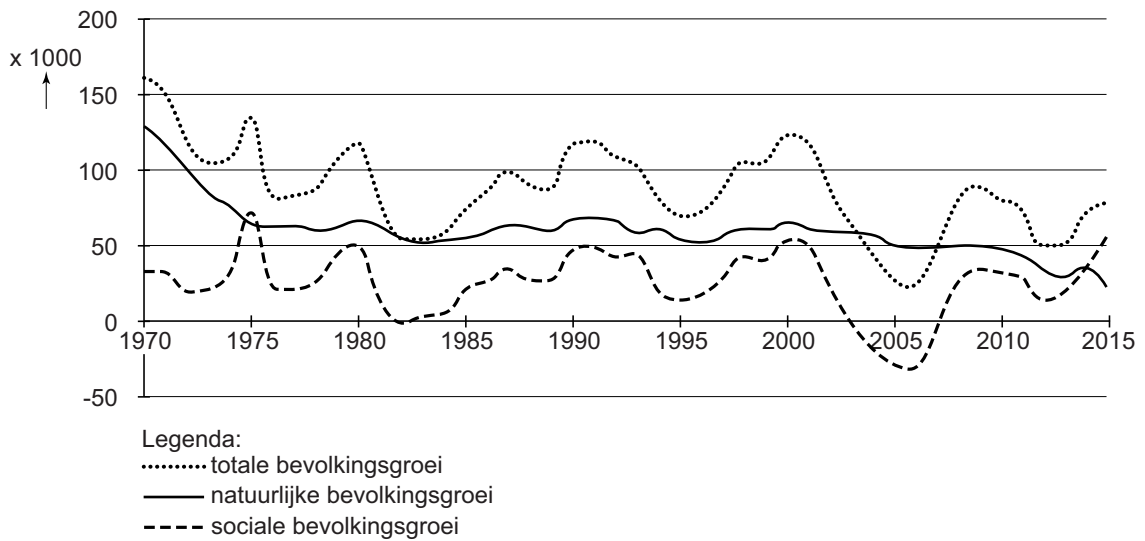
Zeeland was in 2012 het meest vergrijsd en Flevoland het minst.

→ Geef eerst een oorzaak waardoor Zeeland het **meest** vergrijsd was.

→ Geef daarna een oorzaak waardoor Flevoland het **minst** vergrijsd was.

bron 32

Bevolkingsontwikkeling in Nederland, 1970 - 2015



2p 34 Bekijk bron 32.

Over deze bron worden drie uitspraken gedaan.

Uitspraak 1: in 2015 zijn er meer mensen gestorven dan er geboren zijn.

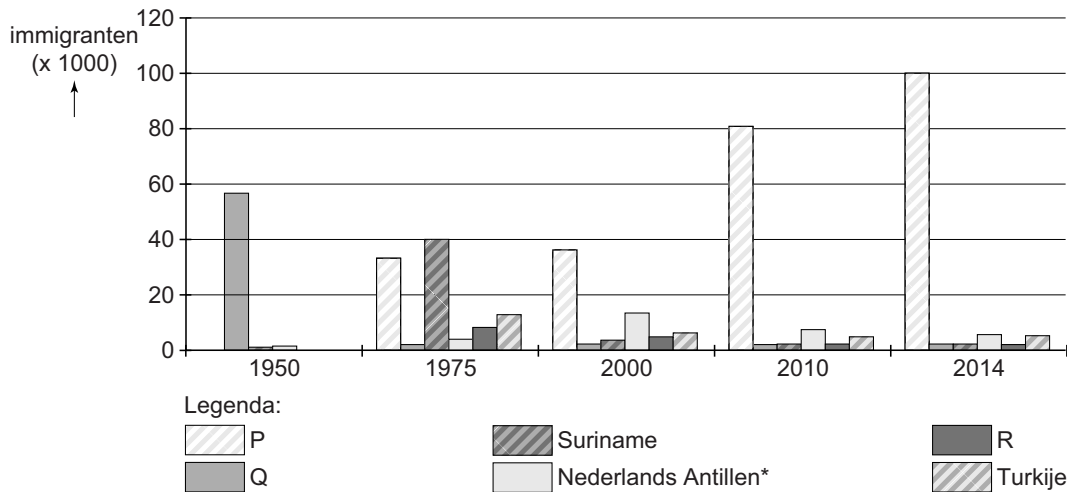
Uitspraak 2: in 2006 was de totale bevolkingsgroei kleiner dan de natuurlijke groei.

Uitspraak 3: de Nederlandse bevolking is in de periode 1970 - 2015 vooral toegenomen door natuurlijke groei.

→ Neem de cijfers 1, 2 en 3 van de uitspraken over op het antwoordblad en zet erachter of de uitspraak juist of onjuist is.

bron 33

Immigranten in Nederland naar herkomst, 1950 - 2014



*De Nederlandse waren een land binnen het Koninkrijk der Nederlanden. Aruba, Curaçao en Sint Maarten zijn afzonderlijke landen geworden binnen het Koninkrijk en Saba, Sint Eustatius en Bonaire hebben de status bijzondere gemeente binnen Nederland.

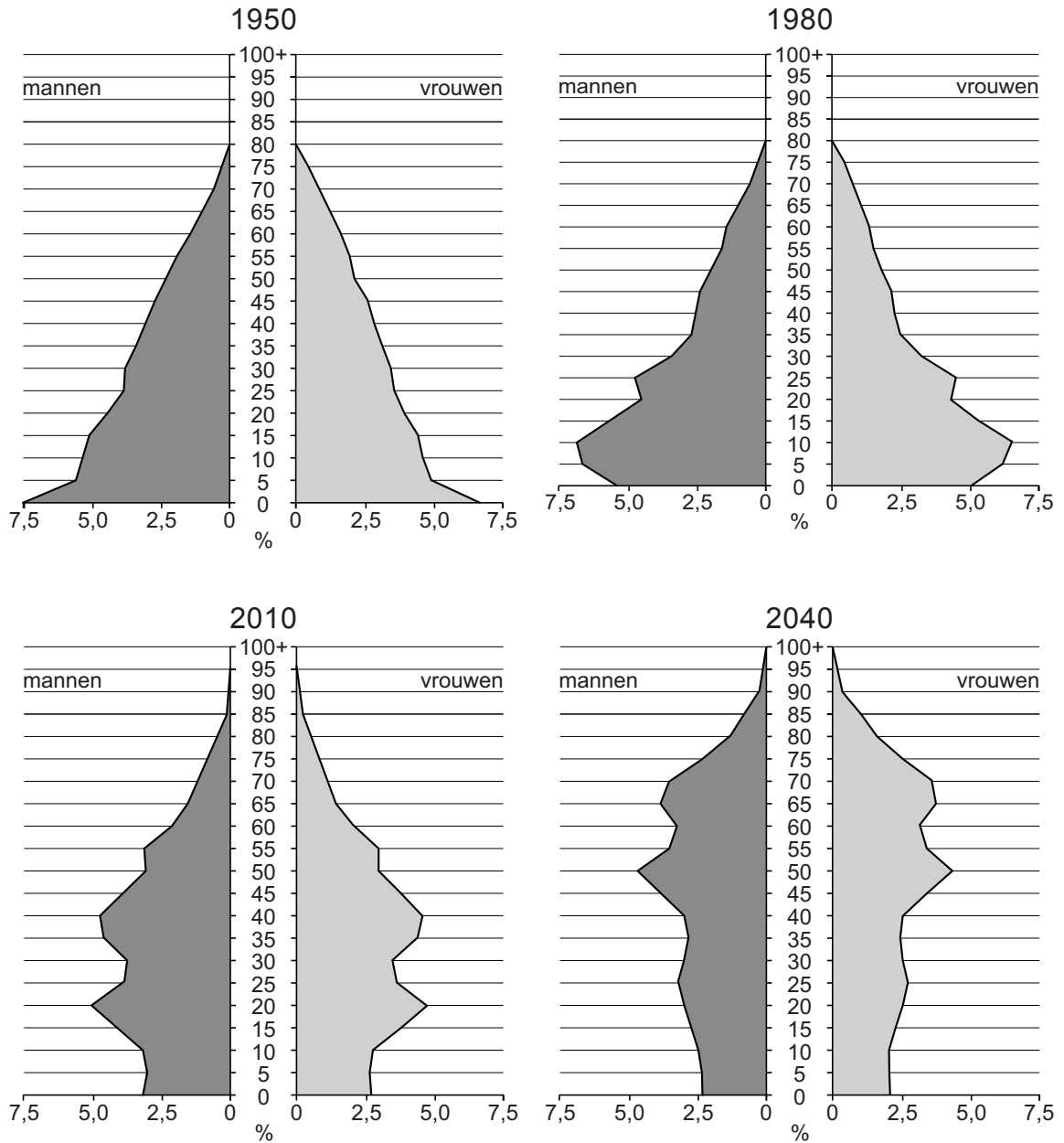
- 1p 35 Bekijk bron 33.
In de legenda zijn drie gebieden vervangen door de letters P, Q en R. De gegevens zijn, in willekeurige volgorde, van Marokko, Indonesië en de Europese Unie.
Waar staan de herkomstgebieden van immigranten juist bij de letters P, Q en R uit bron 33?

	P	Q	R
A	Europese Unie	Indonesië	Marokko
B	Europese Unie	Marokko	Indonesië
C	Indonesië	Europese Unie	Marokko
D	Indonesië	Marokko	Europese Unie
E	Marokko	Europese Unie	Indonesië
F	Marokko	Indonesië	Europese Unie

- 1p 36 Bekijk bron 33.
In 1975 kwamen veel Surinamers naar Nederland.
→ Geef de reden waarom veel migranten uit Suriname juist in dat jaar naar Nederland kwamen.
- 1p 37 Polen vestigen zich zowel in Duitsland als in Nederland.
→ Geef een aardrijkskundige reden waarom Polen zich liever in Duitsland vestigen dan in Nederland.
- 2p 38 Uit het oosten van Duitsland, met uitzondering van Berlijn, migreren relatief veel inwoners naar andere gebieden in Duitsland.
→ Geef twee afstotingsfactoren van het oosten van Duitsland.

bron 34

China, vier leeftijdsdiagrammen in percentages in 1950, 1980, 2010 en 2040



2p 39 Bekijk bron 34.

Over bron 34 worden drie uitspraken gedaan.

Uitspraak 1: de bevolking zal tussen 2010 en 2040 vergrijzen.

Uitspraak 2: in 2010 waren er in procenten minder 35- tot 40-jarigen dan in 1950.

Uitspraak 3: in 2040 zullen in China in procenten meer mannen tussen de 65 en 70 jaar zijn dan mannen tussen de 35 en 40 jaar.

→ Neem de cijfers 1, 2 en 3 van de uitspraken over op het antwoordblad en zet erachter of de uitspraak juist of onjuist is.

bron 35

Website NOS, 10 november 2015

China verwacht drie miljoen extra baby's per jaar

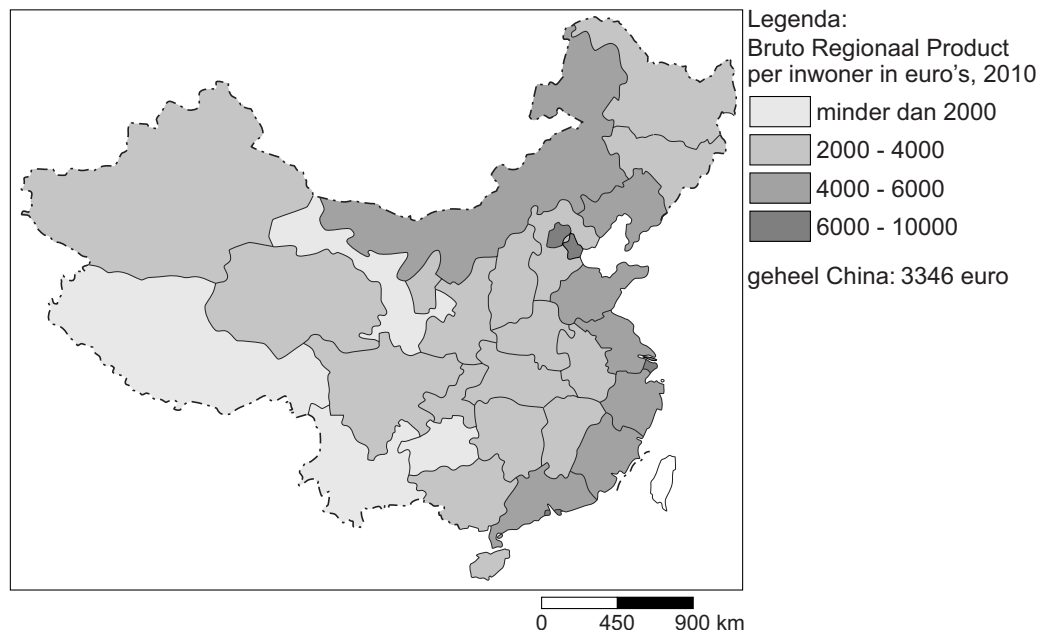
China heeft de maatregel die in 1979 werd ingevoerd om de bevolkingsgroei af te remmen afgeschaft. China verwacht dat door het nieuwe regeringsbeleid in de nabije toekomst per jaar drie miljoen extra baby's geboren zullen worden. Vorig jaar werden bijna zeventien miljoen kinderen geboren in China. De Chinezen verwachten dat het aantal geboorten stijgt naar twintig miljoen per jaar.

2p 40 Lees bron 35.

- Welke maatregel heeft ervoor gezorgd dat de bevolking in China sinds 1979 minder snel groeide dan daarvoor?
- Noem een reden waarom de Chinese regering nu wel een bevolkingstoename stimuleert.

bron 36

China, bijdrage per regio aan het nationaal inkomen in 2010



2p 41 Bekijk bron 36.

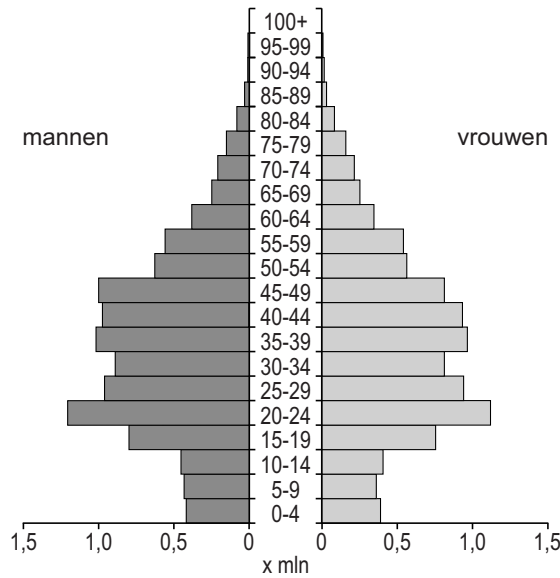
Bron 36 laat de bijdrage per regio aan het nationaal inkomen zien. Veel mensen migreren van het binnenland van China naar de oostkust.

- Noem vanuit bron 36 de reden van deze migratie.
- Noem nog een reden waarom binnenlandse migranten naar de oostkust migreren.

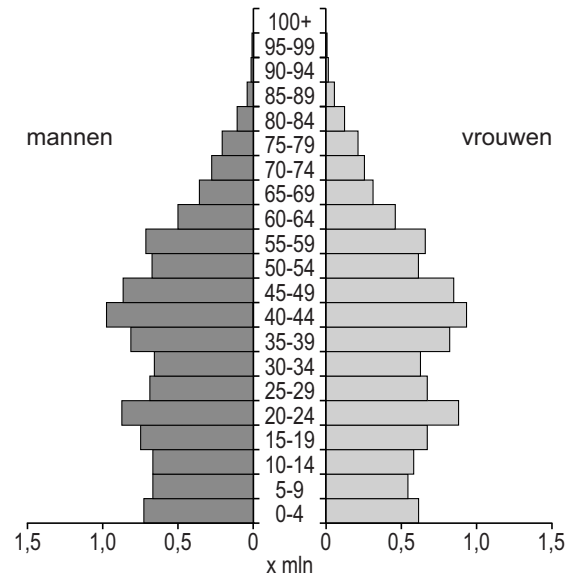
bron 37

Twee leeftijdsdiagrammen

leeftijdsdiagram 1



leeftijdsdiagram 2



1p 42 Bekijk bron 37.

Eén leeftijdsdiagram in bron 37 is van stedelijke gebieden in China en het andere leeftijdsdiagram is van plattelandsgebieden in China.

→ Geef eerst aan of leeftijdsdiagram 1 of leeftijdsdiagram 2 uit bron 37 van stedelijke gebieden is. Geef daarna een argument voor je keuze vanuit de leeftijdsopbouw.

bron 38

Hutong in Shanghai



- 1p 43 Bekijk bron 38.
Veel hutongs in China zijn al gesloopt of worden gesloopt.
→ Geef een reden waarom steeds meer hutongs worden gesloopt.
- 1p 44 Veel steden in China zijn de laatste twintig jaar snel gegroeid. Tot deze snelle groeiers behoren Guangzhou en Shanghai. Ze liggen beide aan zee.
→ Geef een reden waarom de ligging aan zee voor deze steden economisch gunstig is.
- 1p 45 Door migratie is de bevolkingsopbouw in Guangzhou en Shanghai veranderd.
→ Geef eerst aan of deze migratie zorgt voor verjonging of vergrijzing.
Geef vervolgens een argument voor je keuze.

Bronvermelding

Een opsomming van de in dit examen gebruikte bronnen, zoals teksten en afbeeldingen, is te vinden in het bij dit examen behorende correctievoorschrift, dat na afloop van het examen wordt gepubliceerd.